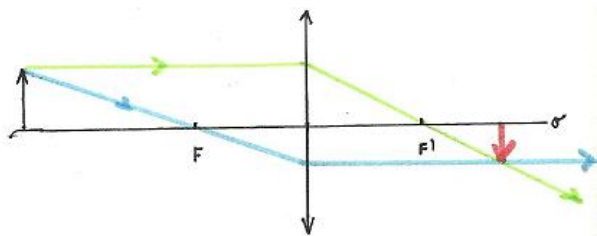


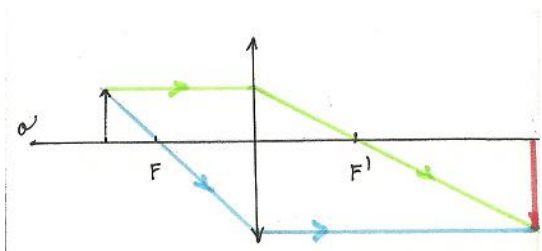
Zobrazení předmětu čočkami:

a) *spojkou* :

A: $f = 2$ cm, $a = 5$ cm
Vlastnosti obrazu : skutečný
převrácený
větší

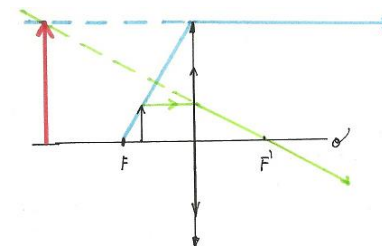


B: $f = 2$ cm, $a = 3$ cm
Vlastnosti obrazu : skutečný, menší
převrácený



C: $f = 2$ cm, $a = 1,5$ cm

Vlastnosti obrazu: neskutečný
přímý
větší



b) *rozptylkou* :

$f = 2$ cm, $a = 3$ cm
Vlastnosti obrazu: neskutečný
přímý
menší

